



情況 4 開始時 **4** 

可作的結論 **4** 


情況 5 開始時 **5** 

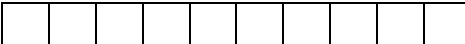
可作的結論 **5** 

情況 6 開始時 **3.1** 

可作的結論 **3.1** 

情況 7 開始時 **1.4** 

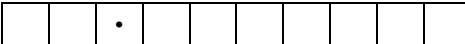
可作的結論 **1.4** 

情況 8 開始時 **7** 

可能是 **7** 


亦可能是 **7** 


可作的結論 **7** 

情況.9 開始時 **4** 

可能是 **4** 

亦可能是 **4** 


可作的結論 **4** 

情況 10 開始時 **3.4** 


可能是 **3.4** 


亦可能是 **3.4** 

可作的結論 **3.4** 

情況 11 開始時 **5** 

可能是 **5** 

亦可能是 **5** 

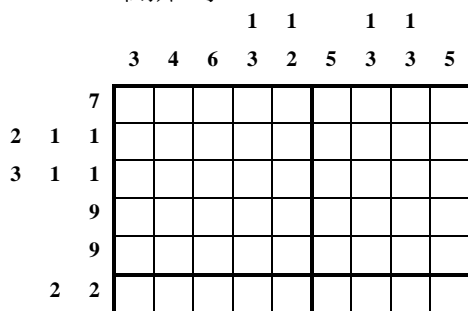
可作的結論 **5** 

同學透過實戰，總結經驗後，他們不難發現：

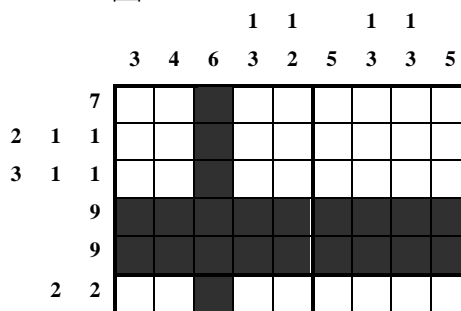
- 1 需要找出及標示哪些必須填色的方格；
- 2 需要找出及標示哪些無需填色的方格；
- 3 需要輪流考慮列或欄；
- 4 需要同時考慮列和欄。

下列是一道較容易的題目，我們特意將整個解題過程鋪陳出來，能讓老師們能了解其中細節。


開始時




圖一




圖二




圖三



圖四



圖五



完成圖

