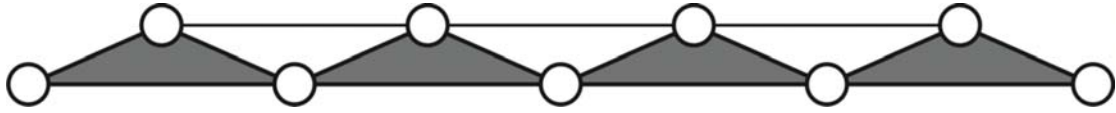


練習二

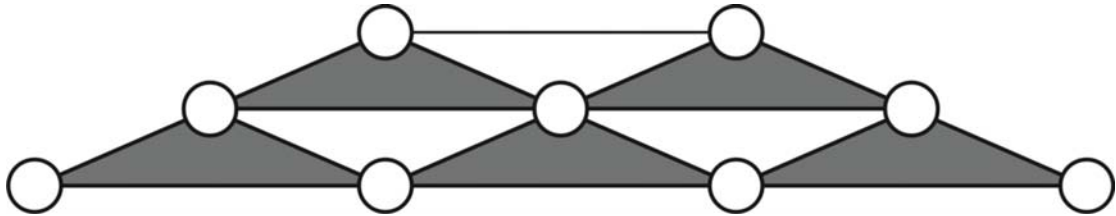
請將所提供的數字，填在各圓圈內，使每個小三角形尖頂上的數字，都必定等於該三角形兩腰上數字的和。

(1)



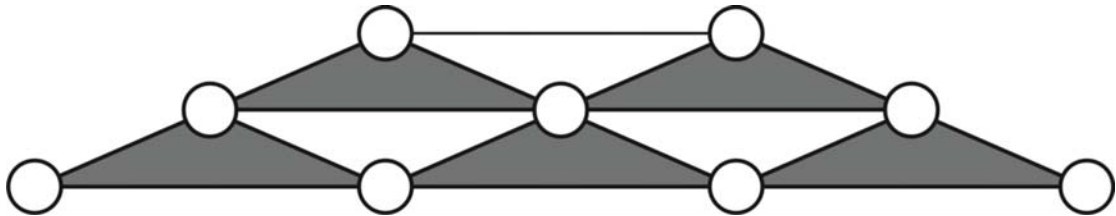
1 2 3 4 6 6 7 7 9

(2)



1 2 3 3 4 5 7 8 12

(3)



1 1 2 3 4 5 6 9 11